



# 1. ÜNİTE

## Onluk ve Birlik Kavramı

Adı: ..... Soyadı: .....  
Sınıfı: ..... Nu.: ..... Tarih: ../../..

# 3. GÜN




- 1 Aşağıdaki resimlerde görülen kalemlerin sayısını yandaki birlik ve onluk kutularına yazalım.

 ..... onluk + ..... birlik

onluklar	birlikler
2	.....





 ..... onluk + ..... birlik

onluklar	birlikler
.....	.....



 ..... onluk + ..... birlik

onluklar	birlikler
.....	.....

- 2 Aşağıdaki sayıların kaç basamaklı olduklarını altlarına yazalım,

 7 ..... bir ..... basamaklı	 12 ..... ..... .....	 34 ..... ..... .....	 9 ..... ..... .....
--	--	--	---

Aşağıdaki tabloda Sinem'in kalemleri onluk ve birlik şeklinde gruplanmıştır. İnceleyiniz.

 → 

onluk	birlik
1 onluk	2 birlik
10	2
on	iki
12	
on iki	

✿ Siz de aşağıda verilen çoklukları, onluk ve birlik gruplarına ayırınız. Tabloları doldurunuz.



onluk	birlik

onluk	birlik



onluk	birlik

onluk	birlik